

ADE

AVALIAÇÃO DESEMPENHO EDUCACIONAL

NOME:

2º ANO:

PROFESSORA:

AVALIANDO A ALFABETIZAÇÃO EM MATEMÁTICA

SECRETARIA MUNICIPAL DE EDUCAÇÃO

RONCADOR, 2017

AVALIAÇÃO DE MATEMÁTICA

QUESTÃO 01

OBSERVE A FIGURA:



MARQUE A ALTERNATIVA QUE APRESENTA A QUANTIDADE DE CARRINHOS:

A () 12

B () 8


C () 20

D () 18

QUESTÃO 02

MARQUE A ALTERNATIVA ONDE TEM O PEIXE MAIS COMPRIDO:

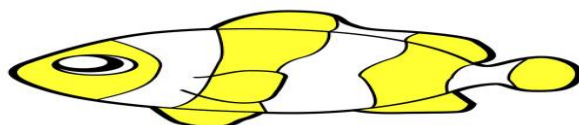
A ()



B ()



C ()



D ()




© Gary Stark Photo: 1547708743

QUESTÃO 03

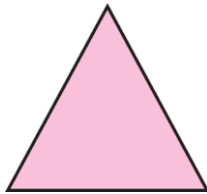
RENATA DESENHOU UM PALHAÇO E USOU O TRIÂNGULO PARA FAZER O CHAPEU:

MARQUE A ALTERNATIVA QUE INDICA A FIGURA USADA POR RENATA PARA FAZER O CHAPEU:


A ()



B ()



C ()




D ()



QUESTÃO 04

MARIA TINHA 12 FLORES E DEU 8 PARA SUA AMIGA.



COM QUANTAS FLORES MARIA FICOU?

A () 5

B () 6

C () 12

D () 4

QUESTÃO 05

LEIA O QUE ESTÁ ESCRITO NA PLACA:

VINTE E CINCO

MARQUE ONDE ESTÁ O NÚMERO QUE VOCÊ LEU:

A () 34









B () 25

C () 40

D () 50

QUESTÃO 06

JOÃO COMPROU UM BRINQUEDO QUE CUSTOU R\$ 10,00. VEJA A TABELA COM OS BRINQUEDOS VENDIDOS NA LOJA.

QUAL BRINQUEDO CUSTOU R\$ 10,00?

A () BOLA

B () CARRINHO

C () PASSARINHO

D () AVIÃO

QUESTÃO 07

OBSERVE A IMAGEM:



designed by freepik.com

QUANTOS PÁSSAROS ESTÃO FORA DA GAIOLA?

A () 10

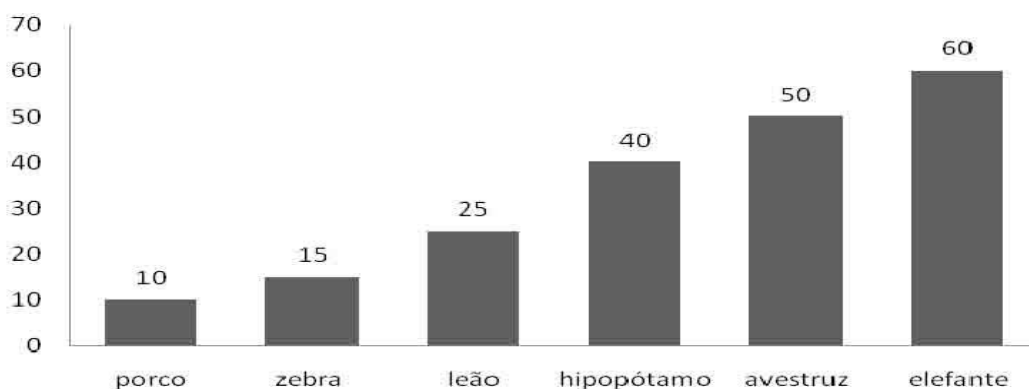
B () 11

C () 12

D () 13

QUESTÃO 08

ANIMAIS DE ESTIMAÇÃO PREFERIDOS PELOS ALUNOS DO 2º ANO.



INDIQUE QUAL É O ANIMAL PREFERIDO DA TURMA DO 2º ANO.

A () PORCO

B () ELEFANTE

C () LEÃO

D () ZEBRA

QUESTÃO 09

PAULO TINHA 10 CHAVEIROS.



ELE GANHOU MAIS 10.

COM QUANTOS ELE FICOU?

- A () DEZ
- B () CINCO
- C () VINTE
- D () TRINTA

QUESTÃO 10

TRINTA E QUATRO AMIGOS FORAM À FESTA DE ANIVERSÁRIO DE MÁRIO.

FAÇA UM X ONDE INDICA A QUANTIDADE DE AMIGOS QUE FORAM À FESTA DE MÁRIO.

- A () 430
- B () 100
- C () 34
- D () 43

BOA SORTE!

